

Zeichne Klimadiagramme aus aller Welt

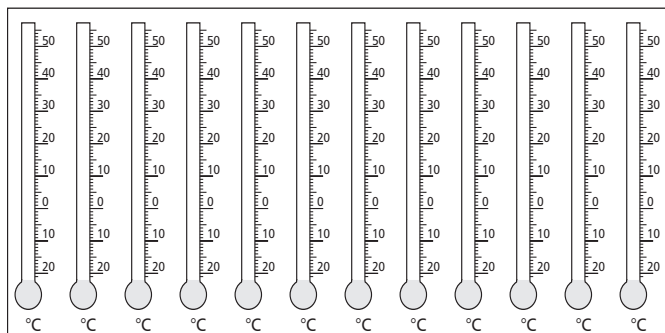


Abb. 1: Temperaturen – Trage die Werte in die Thermometer ein.

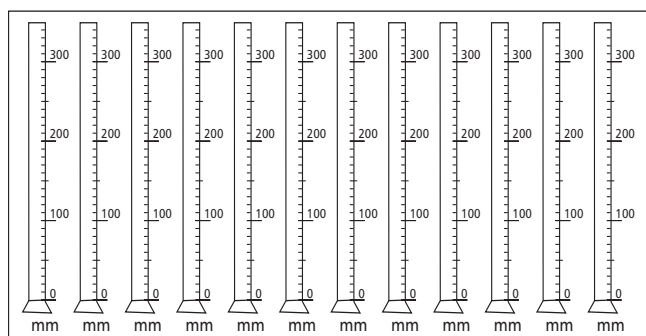


Abb. 2: Niederschläge – Trage die Werte in die Gefäße ein.

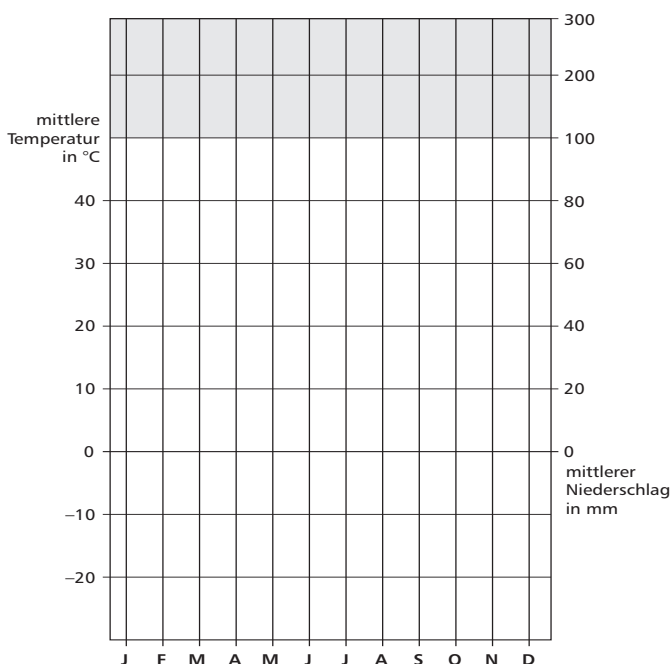


Abb. 3: Wähle einen Ort aus (rechte Spalte) – Trage die Temperaturwerte und die Niederschlagswerte in das Klimadiagramm ein – wie Schulbuch, S. 23.

Aufgaben

1. Wähle eine Tabelle aus und trage die Werte in die Diagramme ein. (Die Abb. 1 und 2 sind einfacher: Trage in Abb. 1 die Temperaturwerte, in Abb. 2 die Niederschlagswerte ein.

Abb. 3 ist schwieriger: Trage hier die Temperatur- und die Niederschlagswerte ein und verbinde sie zu Linien.)

Kalte Zone auf der Nordhalbkugel

Nuuk (Grönland)		J	F	M	A	M	J	J	A	S	O	N	D
Temperatur in °C		-6,7	-6,2	-4,9	-2,7	1,7	4,7	6,8	6,7	3,9	-0,3	-3,6	-6,2
Niederschläge in mm		55	49	50	32	45	55	76	86	97	70	73	48

Kühlgemäßigte Zone auf der Nordhalbkugel

London (Vereinigtes Königreich)		J	F	M	A	M	J	J	A	S	O	N	D
Temperatur in °C		4,2	4,4	6,6	9,3	12,5	15,9	17,6	17,2	14,8	10,8	7,3	5,2
Niederschläge in mm		54	39	37	46	46	44	62	57	50	57	63	52

Warmgemäßigte Zone auf der Nordhalbkugel

Kairo (Ägypten)		J	F	M	A	M	J	J	A	S	O	N	D
Temperatur in °C		12,3	13,5	16,3	20,2	24,2	26,8	27,7	27,6	25,3	22,7	18,7	14,0
Niederschläge in mm		5	4	4	2	2	0	0	0	0	2	2	5

Heiße Zone (Äquatornähe)

Manaus (Brasilien)		J	F	M	A	M	J	J	A	S	O	N	D
Temperatur in °C		25,9	25,8	25,8	25,8	26,4	26,6	26,9	27,5	27,9	27,7	27,3	26,7
Niederschläge in mm		276	277	301	287	193	99	61	41	62	112	165	228

Warmgemäßigte Zone auf der Südhalbkugel

Kapstadt (Südafrika)		J	F	M	A	M	J	J	A	S	O	N	D
Temperatur in °C		21,5	21,7	20,5	18,1	15,3	13,7	12,9	13,7	14,7	16,9	19,1	20,4
Niederschläge in mm		17	15	22	49	94	109	94	83	58	40	26	20

Kühlgemäßigte Zone auf der Südhalbkugel

Ushuaia (Süd-Argentinien)		J	F	M	A	M	J	J	A	S	O	N	D
Temperatur in °C		9,2	9,1	7,9	5,6	3,2	2,1	2,0	1,8	3,8	6,3	7,0	8,8
Niederschläge in mm		55	53	63	51	48	52	49	46	33	39	48	49

Kalte Zone auf der Südhalbkugel

Forschungsstation McMurdo (Antarktika)		J	F	M	A	M	J	J	A	S	O	N	D
Temperatur in °C		-2,9	-9,3	-17,6	-20,6	-21,4	-22,0	-25,7	-26,7	-24,8	-18,9	-9,9	-3,9
Niederschläge in mm		16	30	11	13	19	29	18	12	16	10	10	14